

第十三周考卷

【总复习】

时间:60 分钟

满分:100 分

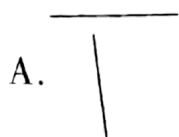
题号	一	二	三	四	五	六	总分
得分							

一、填空。(每空 1 分,共 21 分)

- 教室黑板长大约是 3();语文书的厚度大约是 1();小明身高 132()。
- 把“ $9+9+9+9$ ”写成乘法算式是()或()。
- 计算 3×8 ,用的乘法口诀是(),和它的积相等的另一句乘法口诀是()。
- 先把乘法口诀填写完整,再写出两道乘法算式。
 ()七二十八 () ()
 ()九五十四 () ()
- 明明的体重是 35 千克,爸爸比明明重 37 千克,爸爸体重是()千克。
- 3 时的时候,钟面上的时针和分针成()角,9 时 30 分的时候,钟面上的时针和分针成()角。
- 小明、小刚、小力坐成一排合影,有()种坐法。
- ()里最大能填几?
 $7 \times () < 57$ $8 \times () < 50$ $() \times 4 < 35$ $() \times 9 < 54$

二、选择。(将正确答案前的序号填在括号内)(12 分)

- 下面的图形()是角。



2. 每张桌子坐2名同学,7张桌子可以坐()名同学。

A. 9

B. 14

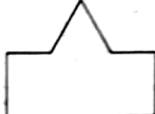
C. 7

3. 把 $6+6+6+6+5+2+1$ 写成综合算式是()。

A. $6 \times 5 + 2$

B. 6×6

C. $6 \times 4 + 7$

4.  图中共有()条线段。

A. 7

B. 6

C. 5

5. 妈妈35岁,小林13岁,妈妈40岁时,小林()岁。

A. 13

B. 28

C. 18

6. 每两个人握一次手,三人一共握()次手。

A. 2

B. 3

C. 6

三、计算。(30分)

1. 口算。(12分)

$6 \times 9 =$

$45 + 38 =$

$5 \times 8 =$

$88 - 43 =$

$3 \times 7 =$

$60 + 25 =$

$4 \times 5 =$

$39 + 42 =$

$65 - 44 =$

$6 \times 6 =$

$31 - 19 =$

$8 \times 9 =$

2. 列竖式计算。(12分)

$53 + 38 =$

$74 - 47 =$

$25 + 48 =$

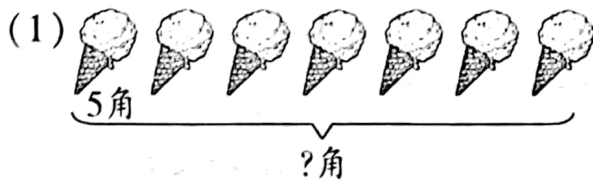
$16 + 27 + 35 =$

$85 - 46 + 18 =$

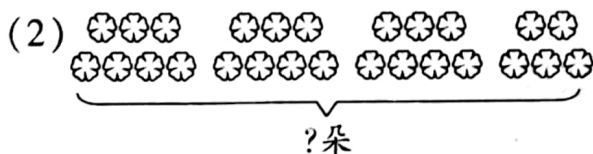
$37 + 44 - 56 =$



3. 看图列式计算。(6分)



$$\square \bigcirc \square = \square (\text{角})$$



$$\square \bigcirc \square + \square = \square (\text{朵})$$

四、写出下面钟表上的时间。(8分)



()



()



()



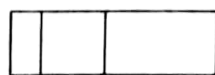
过一刻是()

五、操作题。(9分)

1. 画一条比7厘米短3厘米的线段。(3分)

2. 画一个边长2厘米的正方形。(3分)

3. 他们分别看到了木块的哪一面? 连一连。(3分)

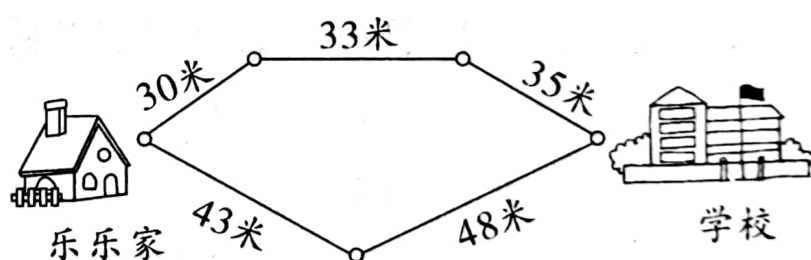


六、解决问题。(20分)

1. 二(1)班图书角有图书 88 本,借走了 15 本,又还回了 8 本,现在有图书多少本?(5分)

2. 一袋盐 2 元钱,一袋醋 8 元钱,妈妈买了 6 袋盐和 1 袋醋共花多少钱?(5分)

3. 乐乐从家到学校有两条路可走,走哪一条路较近?(5分)



4. 火车 11:00 开车,王林从家到火车站要 25 分钟,王林需要几时几分从家出发才能赶上火车。(5分)



王林

开车前5分钟停止检票。

